



アジア州

国土の広がりとは国民統合からみた中国 —中国の文化と政治を知ろう—

→ ねらい

「国土の広がりとは国民統合」に関して、地域(中国)の具体的な事実を知る。

→ 学習課題

- 中国とは、どんな人たちが暮らす、どのような国だろうか？
- 中国は、広大な国土をどのように治めているだろうか？

→ 学習する国



▲中国の地図

A 中国の人々



▲ミャオ族の少女



▲マントウ

B 国土の時差

C インフラ開発



▲チベットの鉄道

漢民族を中心とした中国共産党は、1949年中華人民共和国(中国)を建国しました。建国に際しては、少数民族が生活する国境付近の諸地域も取り込んで、1つの国(民)にまとめられました。その結果、中国には、総人口の92パーセントを占める漢民族と55の少数民族が暮らし、多様な文化が存在しています。例えば、少数民族としては、チワン族や満州族、回族などが挙げられます。現在、中国はおよそ13億人の人々が生活する、世界でもっとも人口の多い国です。

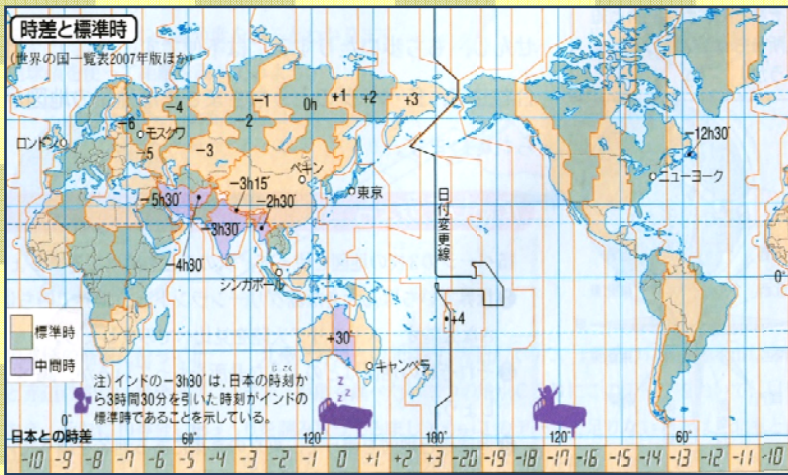
中国の国土は、東西に約5,000kmの距離があります。経度によると、およそ60度の広がりがあり、時差に直すと、およそ4時間程度の違いが生じています。

しかし、中国は、北京の東経120度を中国の標準時と定めているため、原則どこに住む人々も同じ時刻で生活することになります。最東部の黒竜江省で朝7時を時計が示す時、最西部の新疆ウイグル自治区でも、公式には朝7時です。

中国では、経済成長にあわせてインフラの開発が進みました。例えば、高速鉄道や高速道路、インターネットや上下水道の整備まで、さまざまな開発が行われてきました。かつてインフラの整備は、沿岸部の大都市が中心でしたが、近年では内陸部や農村にも及んでいます。国境地帯のチベットやウイグルまで鉄道を延ばす工事も進んでいます。これらの事業は、国土の格差を是正したり、多様な国民を統合していく役割を果たしています。



▼世界の時間帯




▲主な民族の分布

1 西部大開発プロジェクト

各プロジェクトともすでに着工、または「青藏鉄道」のように完成しているものもある。しかし長大なプロジェクトのなかには、計画の修正を求められているものもある。



▲鉄道整備の動き



▲中国の民族構成

I

地名・言葉の意味を調べる

1. 地図に、下の地名の位置を書き込みなさい。
 また、下の用語の意味を確かめなさい。

地名: 北京, 成都, 新疆ウイグル自治区, 黒竜江省
 用語: 中国共産党, 漢民族, 標準時, 経線, インフラ

II

事実を比較・分類・概括する

2. 中国の文化について調べ、下の表を完成させなさい。

代表的な民族	宗教	主な居住地
	イスラム教	
	チベット仏教	
	大乘仏教	
	キリスト教	

新疆ウイグル自治区の中学生は、朝10時になったら登校するそうです。時計が8時のときは、まだ外がうす暗いそうですよ。



3. 民族の分布図をよむとき、とくに注意すべきことを箇条書きにしよう。民族とは、どのようにして識別されるのだろう。
4. 自治区には、どのような自治が認められているだろう。
5. 中国の国土の範囲に、ロシアはいくつの時間帯を設けているだろう。アメリカには、いくつの時間帯があるだろう。
6. 日本の明治時代にも、近代国家を建設するために、さまざまな政策・開発が行われました。中国と比較しながら、似ているところを探してみよう。

III

私たちの生活と結びつける





アジア州

国土の広がりや国民統合からみた中国 — 中国の文化と政治を捉える概念をつくろう —

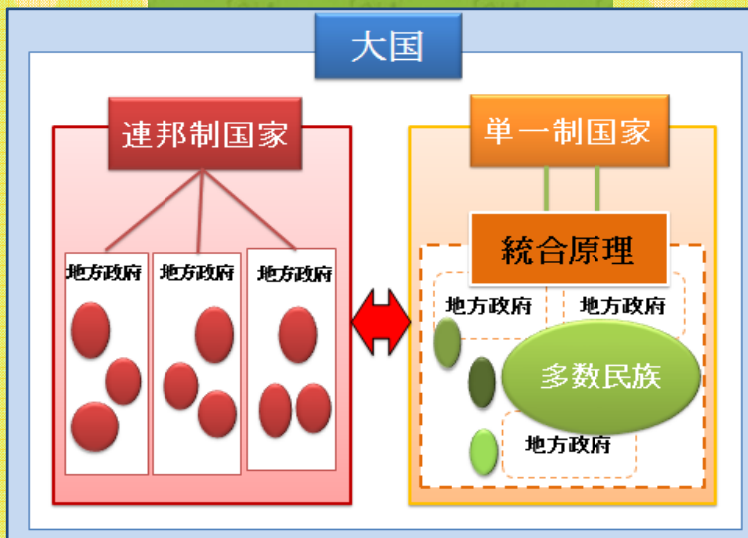
→ ねらい

「国土の広がりや国民統合」を説明する一般的な理論を知る。

→ 学習課題

広大な国土・多様な人々を、どのようにしたら国家・国民にまとめることができるのだろうか？

→ 学習の見取り図



▲ 国家の2つの統治モデル

A 単一制国家



▲ インドネシア国旗

国家の統合には、大きく2つのタイプがあります。1つは、中央政府が、国民と領土を直接統治する単一制国家です。このタイプの国家にも地方政府は存在しますが、それは中央政府の出先機関としての性格しかありません。例えば、教育や税制に関する権限も弱くなる傾向にあります。この制度は、世界の大多数の国で採用されています。例えば、多民族が暮らすインドネシアは、単一制国家の1つです。この国では、「多様性の統一」といふスローガンを掲げて国を1つにまとめています。国民の大半は、マレー系の民族で多くがイスラム教徒ですが、多様性と称されるように、約300の少数民族が生活しています。単一制国家では、多様性が損なわれたり、格差が拡大したりすると、独立運動が起きやすくなります。メラネシア系の多数を占め、大半がキリスト教を信仰する東ティモールは、2002年にインドネシアから独立を果たしました。

B 連邦制国家

活動

日本の都道府県とアメリカの州を比較しよう。似ているところと異なるところを、表に整理しよう。



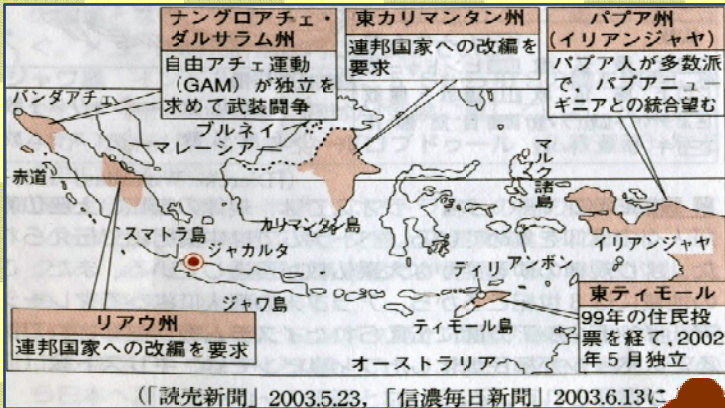
もう1つのタイプは、2つ以上の国家が結びついて1つの国家としてまとまる連邦制国家です。この制度を採る代表的な国は、アメリカです。アメリカの州は、stateと呼ばれ、教育や税制に関して独自の権限を持っています。連邦制は、国家の統合と、国内の多様性や自治の調和をはかるために、採用されることの多い仕組みです。このバランスが崩れて旧ソ連やユーゴスラビアのように連邦国家が崩壊すると、長い紛争に発展することも少なくありません。





▲ノーベル平和賞受賞 劉曉波

▲独立を喜ぶ東ティモールの人々



▲インドネシアの統合と分裂

劉氏ノーベル平和賞 喜びの声

民主化へ「中国に圧力」

劉曉波氏にノーベル平和賞が贈られることを、日本国内で中国の民主化を訴えてきた東海地方の関係者は歓迎した。「賞は、国際社会から中国への圧力になる」。名古屋市南区在住のモンゴル系中国人、オルホノド・ダイチンさん(44)は劉氏の受賞を喜ぶ。ダイチンさんは内モンゴル自治区出身。2000年に日本に留学し、大阪大大学院博士課程で言語学を学んだ。途中から中国内にいるモンゴル族の言語や文化を守り、自治権拡大を訴える運動を日本で開始。以降は「迫害が心配」と中国に戻っていない。劉氏がインターネット上に公表し、中国政府が問題視した「08憲章」は「人権の保障」や「言論の自由」のほか、各民族が共存できる「連邦制」も訴えている。ダイチンさんは「民主化が進めば、多数を占める漢民族にとっても、モンゴル族にとっても住みやすい社会になる。賞が中国社会が抱える問題に世界が目を向けるきっかけになれば」と話す。(西本秀)

© 朝日新聞社 無断複製転載を禁じます。内容は日本の著作権法並びに国際条約により保護されています。

▲中国国外からの民主化の訴え

たくさんの島々の人々が、1つにまとまって独立したのはなぜなんだろう。歴史を調べてみたいな。

I 言葉の意味を調べる

1. 下の用語の意味を確かめなさい。
単一制国家, 連邦制国家, 統合, 多様性

II 事実を例示する, 説明する

2. 中国は、連邦制・単一制のどちらのしくみを採用しているのだろうか。また、そのように判断した理由を説明しなさい。
3. 日本とアメリカ、そして中国は、下の線分のどの辺りに位置づくだろうか。また、そのように判断した理由を説明しなさい。



1990年代に入り、中国は2つの特別行政区を設けました。この結果、中国の中央集権的な体制に穴が開いたと言われています。

連邦制国家

地方の権限が強い

単一制国家

地方の権限が弱い

4. 1990年代に中国に設けられ特別行政区とは、どこのことか。地図で探して地名を挙げなさい。なぜ“特別”な地域を作ったのだろうか

III 理論を応用する

5. 様々な国内問題に対応するため、中国は連邦制に移行すべきだと、「国外で」主張している人々がいます。
 - ① 具体的に何を主張しているのでしょうか。
 - ② どのような国内問題の解決を目指しているのでしょうか。
 - ③ なぜ、国外で主張されているのでしょうか。





アジア州

国土の広がり と 国民統合 からみた中国 — 概念を活用して中国の課題を考えよう —

→ ねらい

一般的な理論を通して、「国土の広がり」と国民統合」に関する地域(中国)の課題を知る。

→ 学習課題

中国では、国民のまとまりをめぐる、どのような議論が起きているだろう？

→ 学習の事例



▲中国各地の景観写真



「太郎さんと花子さんは中国の社会問題について調べているようです」

A

チベット問題

自治区の名称	
チベット自治区	寧夏回族自治区
新疆ウイグル自治区	広州チワン族
内モンゴル自治区	
権限の小さい自治州(30州)や自治県(117)もある。	



「中国の地図を見ると変わった名称の地区があるよ。チベット自治区，内モンゴル自治区…。「自治区」ってどんな意味なんだろう」



「ここはね，少数民族に条件付きの自治を認めている地域なんだよ。自治区と言っても，みんながそれに満足しているわけではなく，政府に対する大規模なデモが起きているよ。北京オリンピックと重なった 2008 年のチベットのデモは，日本でも大きく報道されたね」



「どうして同じ中国のなかで，こんな問題が起きているのかなあ。どんな主義主張で対立しているのかな」

B

中国と香港



一国二制度ってどんな仕組みなのだろうかな？



「インターネットのサイトによると，2011 年7月，香港で約 21 万人が参加する民主化要求デモが起きたって書いてあるよ。ここは，どういう事情なの」



「香港は 155 年間にわたってイギリス領で，1997 年に中国に返還された地区だ。いまは特別行政区と呼ばれ，前の仕組みが維持されているよ。ディズニーランドもあるんだ」



「イギリスは資本主義，中国は社会主義。経済の仕組みも人々の考え方も違うよね。うまくやっているのかな」



「そこは「一国二制度」っていう仕組みをつかって，乗り切っているみたい。しかし，その制度に不満や不安もあるようよ」



▼2011年7.1の香港民主化デモ



▼ダライ・ラマ14世



▼チベットの混乱を伝える新聞(2008年3月)

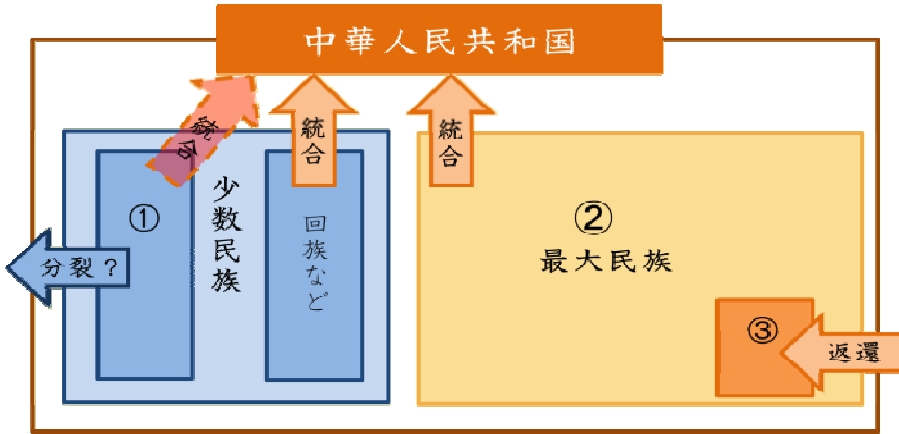
一国二制度とは？
 1997年、香港がイギリスから155年ぶりに返還された。それにともない社会主義国である中国のなかに資本主義経済体制の香港が存在するという一国二制度が採用された。この体制は、50年維持されることになっている。この時期にポルトガルからマカオも返還された。

I 地名・言葉の意味を調べる

1. 地図に、下の地名の位置を書き込みなさい。また、下の用語の意味を確かめなさい。
 地名: チベット自治区, 香港, マカオ, 台湾
 用語: 民族自治区, 社会主義, ダライラマ14世, チベット亡命政府

II 原因・影響を推論する

2. 下の図を完成させて(①②には民族名, ③には地域名), チベット問題の背景を説明しなさい。



▲2名いるパンチェン・ラマ11世 (1995年頃)

3. パンチェン・ラマ11世が2名いるのはなぜだろう。それぞれを推しているのは誰だろう。

III 予測・判断を主張する

4. 上の図を日本に置き換えてみよう。①や②に相当する集団を明治時代と第二次世界大戦後に分けて特定し、そのように判断できる根拠を主張しよう。