



アジア州

人・モノの結びつきからみた朝鮮半島 — 韓国の地理と経済を知ろう —

→ ねらい

「人やモノの結びつき」に関して、地域（朝鮮半島）の具体的な事実を知る。

→ 学習課題

- 韓国経済は、これまでどのように変化してきたのだろうか？
- 現在の韓国経済には、どのような特徴がみられるだろうか？

→ 学習の見取り図



▲ 朝鮮半島の2つの国家の位置

A 工業製品による 世界とのつながり



▲ 韓国製のスマートフォン

韓国は日本と同様に鉱産資源に乏しく、農業を主産業とする国家でした。1960年代には、外国の資金援助を工業の開発にあてるようになり、原材料を海外から輸入し、それを製品として輸出する加工貿易国として発展しました。1970年代は繊維や衣類が主要な輸出品でしたが、1980年代からは機械が主要な輸出品に変わりました。現在では、薄型テレビや液晶のディスプレイ、半導体などの分野で、韓国メーカーは世界的なシェアを得ています。

韓国は、かつて日本の企業が世界をリードしていた産業分野でめざましい成長を遂げており、日韓の企業間の競争は激しくなっています。

B 人の移動による 世界とのつながり



▲ 韓国の空の玄関
インチョン国際空港

韓国の空の玄関：インチョン国際空港は、首都ソウルの郊外の干潟を埋め立てて建設され、2001年に開港しました。インチョン国際空港は、韓国の中心空港としてだけでなく、東アジアのハブ空港として、中国・日本などの地方都市と、アメリカ・ヨーロッパの大都市を航空路で結んでいます。

広島空港を発着地とする海外旅行ツアーは、成田国際空港を経由するのではなく、ソウルのインチョン国際空港に行き、そこから海外の目的地に向かうプランが増えてきています。成田行きの直行便が開設されていない国内の地方空港にとって、韓国のインチョン経由は、経済的にも時間的にも、そして肉体的にも魅力的な路線となっています。



輸出		[UN Comtrade, ほか]					
1965年	1億7500万ドル	繊維品 14.9%	衣類 12.0	木製品 10.3	魚介類 10.3	鉄鋼 7.4	その他 45.1
1985年	302億8300万ドル	機械類 16.6	船舶 14.7	衣類 8.4	鉄鋼 6.0	その他 37.5	
2006年	3254億5700万ドル	機械類 39.2	自動車 13.0	船舶 6.6	鉄鋼 5.5	その他 29.6	
輸入							
1965年	4億6300万ドル	化学肥料 14.2%	機械類 10.4	綿花 7.8	小麦 5.4	その他 47.5	
1985年	311億3600万ドル	機械類 21.1	石油・同製品 20.0	船舶 11.1	その他 39.0		
2006年	3093億8000万ドル	機械類 27.1	原油 18.1	食料品 5.1	有機薬品 4.3	その他 41.3	

▼タイムズスクエアの韓国企業

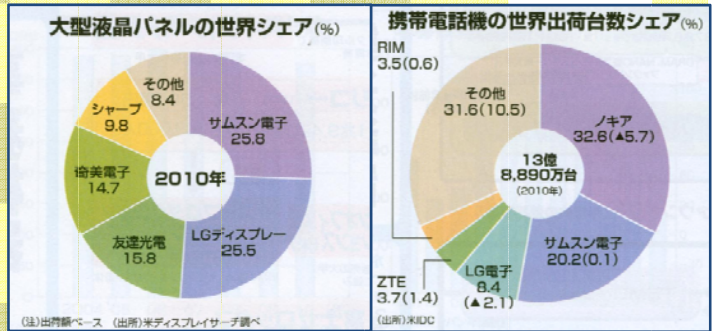
▼イングランドのサッカー強豪チームのスポンサーになっている韓国企業



▲韓国の貿易の変化



▲大韓航空の国際線ネットワーク



▲韓国製品の世界的シェア

I 地名・用語を確認する

1. 地図に、下の地名の位置を書き込みなさい。また、下の用語の意味を確かめなさい。
地名：ソウル、インチョン国際空港、ピョンヤン
用語：ハブ空港、IT産業、加工貿易、市場

II 事実を比較・分類・概括する

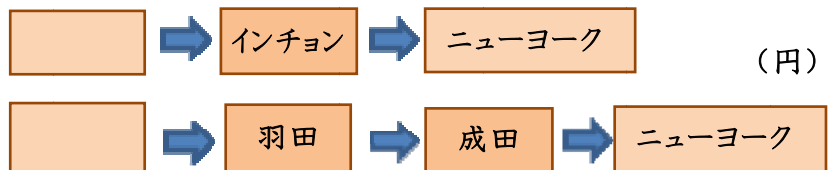
2. 1965年、1985年、2006年の輸出品の傾向・変わり、どのようにまとめることができるか。

年代	輸出第1位	輸出第2位	輸出第3位
1965年			
1985年			
2006年			

タイムズスクエアの電飾から、韓国企業の広告を見つけてみましょう。見つけるかな？
日本ではこの企業の製品をよく見かけられるだろうか？



3. 近年、韓国のインチョン国際空港を利用するケースが増えているのはなぜだろう。インチョン国際空港やアジアナ航空を利用して中国・ニューヨークに行くときの乗換回数と価格を比較しよう。



JALを利用すると

4. 私たちの身の回りで朝鮮半島にゆかりある製品を探してみよう。

III 私たちの生活と結びつける





アジア州

人・モノの結びつきからみた朝鮮半島 — 韓国の地理と経済を捉える概念をつくろう —

→ ねらい

「人・モノの結びつき」を説明する一般的な理論を知る

→ 学習課題

近年、韓国企業は、なぜ世界の市場で大きなシェアを獲得することができたのだろうか？

→ 学習の見取り図



▲2つの貿易モデル

A グローバル化の進む世界貿易



「グローバル化」ってどんな現象だろう？
具体例をあげながら、定義してみよう。

世界の国には、国内産業を育成したり保護するために、輸入の数量を制限したり、高い関税をかけることがあります。このような貿易を、保護貿易といいます。いっぽう、関税を無くして、輸出入を活発化させることもあります。これを自由貿易といいます。WTO(世界貿易機関)は多国間の話し合いの場をつくり、自由貿易を促進する役割を果たしてきました。

近年、多国間の話し合いでは合意に至ることが難しいこともあって、2国間で個別に話し合い、貿易を自由に行える取り決め(FTA)を結ぶ国々が増えています。韓国は、南米のチリと最初に結んだのを皮切りに、EUやアメリカとFTAを結び、現在は中国との間でFTA締結に向けた交渉にはいっています。

B グローバル化のメリットとデメリット

先進工業国には、国境の壁を越えて活動する多国籍企業が増えています。多国籍企業は、少しでも安く原材料を仕入れたり、安く製造できたりするところを求めて、また農作物や製品をたくさん販売できるところを求めて、世界各地に展開しています。国際競争力の高い企業・産業は、グローバル化した世界では多くの利益を得ることができます。

経済のグローバル化が進むと、思いもかけない、遠い他所の影響を受けることがあります。例えば、自然災害やストライキで海外工場の生産がストップすると、世界規模の分業が滞りかねません。また世界規模の競争に対抗できない企業・産業は、市場で生き残ることができず、淘汰されることもあります



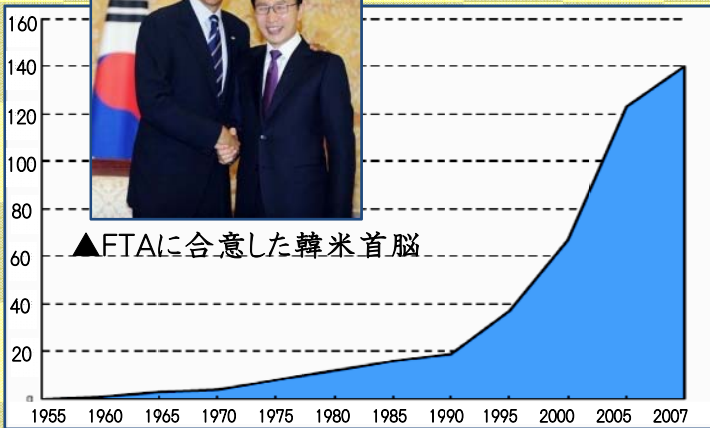
▼日本と韓国がFTAを締結し、発効した主な国

日本	韓国
フィリピン, タイ, ブルネイ, インドネシア, ASEAN, スイス, ベトナム, シンガポール, メキシコ, マレーシア	ペルー, チリ, ASEAN, インド, シンガポール, EFTA, EU, アメリカ

(2012年1月現在, EFTA:アイスランド, ノルウェー, スイス, リヒテンシュタイン)



▲FTAに合意した韓米首脳



▲世界のFTA件数の推移

▼WTO交渉決裂を伝える新聞記事

朝日新聞 2008年7月30日 朝刊 1ページ 東京本社

WTO交渉決裂

米と中印譲らず 長期凍結は必至

【ジュネーブ】小山田研次 駐米特派員 村山富子 駐米記者 米と中国・インドの貿易交渉は、2008年7月29日、ジュネーブで決裂した。米と中国・インドの貿易交渉は、2008年7月29日、ジュネーブで決裂した。米と中国・インドの貿易交渉は、2008年7月29日、ジュネーブで決裂した。

米と中国・インドの貿易交渉は、2008年7月29日、ジュネーブで決裂した。米と中国・インドの貿易交渉は、2008年7月29日、ジュネーブで決裂した。米と中国・インドの貿易交渉は、2008年7月29日、ジュネーブで決裂した。

I 言葉の意味を調べる

1. 下の用語の意味を確かめなさい。
関税, WTO, FTA, 自由貿易, 保護貿易
比較生産費説(比較優位論)

II 事例を説明する

2. 自由貿易を進めることのメリットは何だろう。
A国とB国で、全人口の半分ずつが、米づくりと自動車産業に従事していると仮定します。すると各産業では、以下の量の生産が可能です。

	米	自動車
A国	3	6
B国	4	12

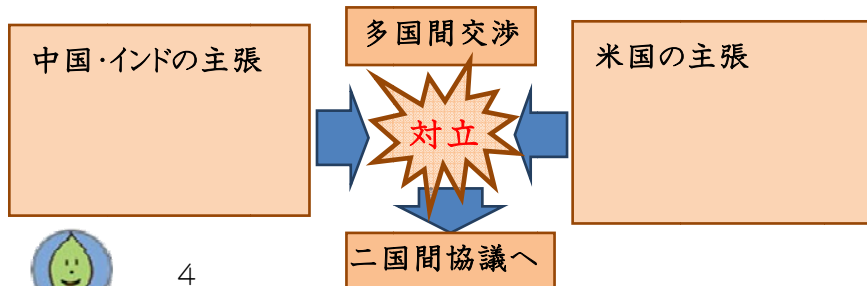
例えば, AB両国とも人口が1億人で, 米づくりには 5,000 万人, 自動車産業には 5,000 万人, 従事していると仮定します。

これらの条件から, A国とB国にとって, もっとも利益があがる貿易の方法を考えなさい。

自由貿易に賛成と反対, それぞれの立場から, その根拠をあげてみましょう。

III 理論を応用する

3. なぜ韓国はFTAを積極的にすすめているのだろうか。
4. 新聞記事が伝えるように, WTOの交渉が決裂したのはどうしてだろう。図を完成させて, 理由を説明しよう。





アジア州

人・モノの結びつきから見た朝鮮半島 —概念を活用して朝鮮半島の課題を考えよう—

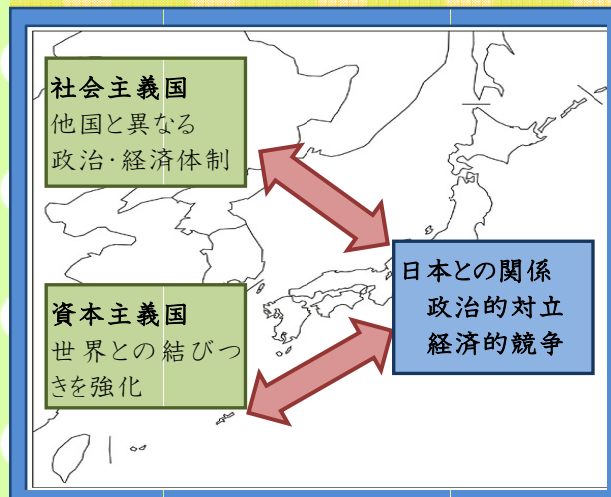
→ ねらい

一般的な理論を通して、「人・モノの結びつき」に関する地域（朝鮮半島）の課題を知る。

→ 学習課題

- 朝鮮半島の国々は、世界とどのように結びついているだろうか？
- どうして、そのような結びつきになっているのだろうか？

→ 学習の見取り図



A

結びつく韓国



韓国は人口約 4800 万人で、面積は 9.8 万 km²。日本と比べてどちらもずいぶん小さいのね。



BRICSやNEXT11 と呼ばれる国々のなかでも、人口・面積ともに、もっとも小さな規模だよ。



だから韓国は人やモノの結びつきを通して自分たちの国の経済を活性化させようとしているんじゃないかなあ。だから積極的にFTAを結ぶんだわ。



でも、FTAへの反対運動を伝えるニュースも見たことあるよ。どうして反対しているのかな？

B

孤立する北朝鮮

▼対北朝鮮輸出禁止項目(抜粋)

- 1 牛肉
- 2 マグロのフィレ
- 3 キャンピヤ・その代用品
- 4 酒類 たばこ
- 5 香水・化粧品
- 6 革製バッグ・衣類等
- 7 毛皮製品
- 8 じゅうたん
- 9 乗用車・オートバイ
- 10 カメラ・映画用機器

国連安全保障理事会
決議 1718 号



第二次世界大戦後、朝鮮半島は東西冷戦の対立に巻き込まれ、北朝鮮は旧ソ連の、韓国はアメリカの影響を受けた国家に分断されてしまったのよ。



北朝鮮は天然資源に恵まれ、またソビエトや中国の支援を受けて、順調に経済成長していた時期もあったみたい。しかし、独自の政治体制や核開発、拉致・人権問題の影響で、国際的に孤立しているよ。また自然災害や産業の破たん、食糧が不足しているとの報道もあるよ。



(単位 %)				
	1980年	90	00	日本(00)
穀類	53.3	43.8	32.2	28
米	95.1	108.3	102.7	95
大豆	35.1	20.1	7.7	5
野菜	100.2	98.9	98.3	82
果実	98.6	102.5	88.9	44
牛肉	93.0	53.6	42.3	34
豚肉	97.5	100.3	90.8	57
鶏肉	100.0	100.0	76.1	64
牛乳	109.7	92.8	77.4	68

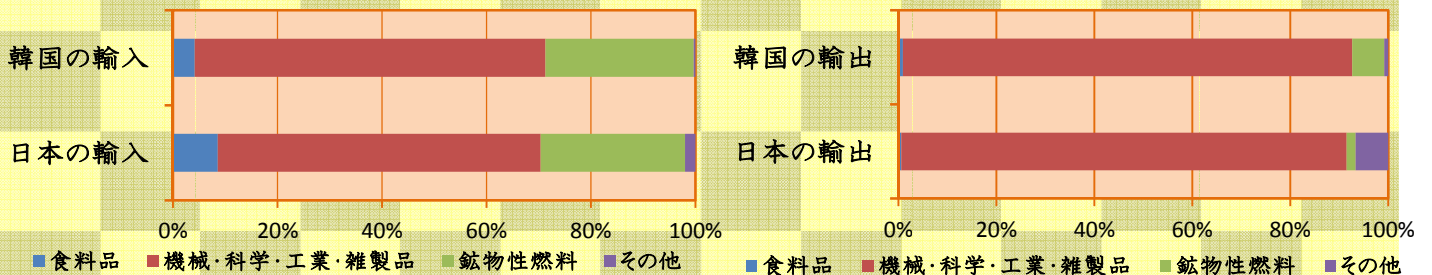
資料 農村経済研究院「食品需給表」,農林水産省「食料需給表」

▲日本と比較した韓国の主要品別自給率



▲FTA締結に反対する韓国の人々(2011)

▼輸出入額の商品分類別割合(2009年) 総務省ホームページより



I

用語の意味を確かめる

1. 下の用語の意味を確かめなさい。
資本主義経済, 社会主義経済, BRICS, NEXT11

II

原因・影響を推論する

2. 写真を見なさい。なぜアメリカとのFTA締結に反対しているのだろう。図を完成させて, 説明しなさい。

(単位 千ウォン, 千円, %)				
	1980年	90	02	日本(02)
農家所得(a)	2,693	11,026	24,475	7,842
農業所得(b)	1,755	6,264	11,274	1,021
農外所得	938	2,841	8,140	6,821
(b/a)	65.2	56.8	46.1	13.0
農家負債(c)	339	4,734	19,898	3,264
(c/a)	12.6	42.9	81.3	41.6

資料 韓国統計庁「農家経済統計」,農林水産省「農業経営統計調査報告」

▲韓国の農家経済の推移(1戸あたり)

過去

韓国の農家の所得は(1)。借金は(2)。韓国は, 国内の農業を保護するために, 外国の農産物に高い(3)をかけていた。

現在

アメリカとFTA締結して, (3)が撤廃される。

韓国には, アメリカの(4)農産物が大量に輸入される可能性が高い。

未来

韓国の食糧自給率は, ますます(5)だろう。韓国の農家の経営は, ますます(6)だろう。

3. 日本と韓国の輸出入にみられる共通点を箇条書きしてみよう。共通点が多いということは, 何を意味するだろうか。
4. 韓国がFTAを積極的に結ぶことについて, 日本の製造業, とくに電機メーカーの経営者は, どのような気持ちでみているだろう。なぜそのように判断するのか。

III

予測・判断を主張する

